

Вивчаємо французьку мову: міжпредметні зв'язки

Ми починаємо цикл публікацій, матеріали яких допоможуть старшокласникам (і, можливо, й першокласникам) опанувати закони, систему понять та об'єктів, феномени інших предметів за допомогою французької мови. Географічні назви, особливості історичних епох, досягнення цивілізацій, літературні пам'ятки, видатні особистості, явища культури і суспільного розвитку, природа – все це входить до поняття «загальна компетенція», яку необхідно і можливо розвивати під час вивчення іноземної мови. Публікація цього числа журналу допоможе пригадати і, можливо, й відкрити для себе географічну систему світу. Матеріали можуть бути використані на уроках французької мови, у позакласній роботі (для організації різноманітних конкурсів, вікторин, олімпіад) і для самостійної роботи тих, хто засобами французької мови розширює власний світогляд, збагачує пам'ять, розвиває увагу і мислення.

Etes-vous forts en géographie?

Nous sommes sûrs que vous savez bien la géographie, au moins la géographie de l'Ukraine, de la France et de l'Europe. Mais l'esprit humain n'a pas de limites. Voulez-vous faire un voyage passionnant à travers le monde, « au-dessus des vieux volcans... au-dessus des capitales ... sur les dunes du Sahara, des îles Fidji ou Fuji-Yama... »? Donc, vous aurez besoin de l'atlas géographique du monde, des cartes de continents, des dictionnaires bilingues et encyclopédiques ... et de la patience! Mais avant apprenez quelques notions et noms d'objets géographiques. Ce sera vos arme et équipement dans notre premier voyage.

Chef-lieu – ville principale d'une division administrative.

Confins – limites, extrémités d'un pays, d'un territoire.

Cordillère – chaîne de montagne.

Courant – mouvement de l'eau ou de l'air dans une même direction

Désert – lieu, pays aride et inhabité.

Détroit – bras de mer resserré entre deux terres

Gisement – disposition des couches minérales dans le sein de la terre. Masse de minéraux: gisement de houille, de potasse.

Glacier – amas de glaces qui se forme dans les pays de montagne et dans les régions froides et qui résulte de la transformation de la neige en glace.

Golfe – partie de mer qui s'enfonce dans les terres

Île – espace de terre entouré d'eau de toutes parts

Lac – étendue d'eau entourée de terres

Péninsule – presqu'île de grande dimension: la péninsule balkanique.

Presqu'île – portion de terre entourée d'eau, à l'exception d'un seul côté, par lequel elle communique avec le continent.

Vallée – dépression creusée par un cours d'eau

Volcan – relief édifié par l'accumulation de matières originaires de l'intérieur du globe, autour de l'orifice par où elles sont sorties (cratère)

Iniveau

Ex.1. Mettez un « + » dans la colonne correspondante.

Noms géographiques	a)		b)									c)							d)												
	Continent	Océan	Mer	Pays	Fleuve	Île(s)	Péninsule	Montagne	Ville	Mer	Ville	Pays	Fleuve	Capitale	Désert	Lacs	Détroit	Golf	Île(s)	Fleuve	Lac	Détroit	Golfe	Montagne(s)	Désert	Mer	Île(s)	Péninsule	Presqu'île	Pays	
1. Atlantique																															
2. Chypre																															
3. Australie																															
4. Crimée																															
5. Alpes																															
6. Glacial																															
7. Baltique																															
8. Everest																															
9. Hébrides																															
10. Danube																															
11. Pologne																															
12. Cannes																															
13. Eyphrate																															
14. Eurasie																															
1. Odessa																															
2. de Marmara																															
3. Bruxelles																															
4. du Bengale																															
5. Balaton																															
6. Nil																															
7. la Manche																															
8. Pays-Bas																															
9. Bosphore																															
10. Sahara																															
11. La Valette																															
1. Léman																															
2. de Magellan																															
3. Sardaigne																															
4. de Gascogne																															
5. Elbe																															
6. Balkan																															
7. Arabique																															
8. Canaries																															
9. le Maghreb																															
10. Vistule																															
11. de Gibraltar																															
12. Erie																															
13. du Mexique																															
14. Gobi																															
1. des Appenins																															
2. Luxembourg																															
3. Méditerranée																															
4. Kouriles																															
5. Croatie																															
6. Quiberon																															
7. Ceylan																															
8. Egée																															
9. Ibérique																															
10. Tchoukotsky																															
11. Soumatra																															
12. Suède																															
13. des Caraïbes																															
14. Sicile																															
15. Turquie																															

Ex.2. Mettez les noms géographiques sur la carte.

Fleuves

- Le Nil en Afrique
- Le Yangzi Jiang en Asie
- L'Amazone en Amérique du Sud
- Le Danube en Europe
- Le Mississippi en Amérique du Nord

Îles

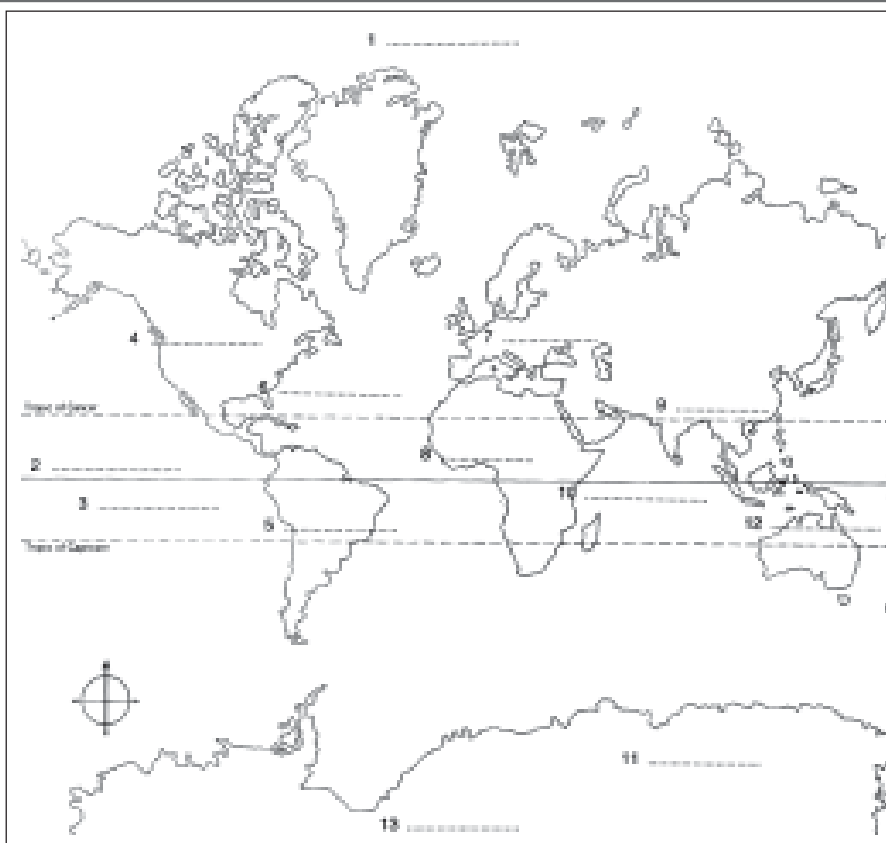
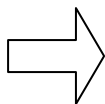
- Tasmanie au sud de l'Australie
- Groenland dans l'océan Glacial

Montagnes

- Rocheuses en Amérique du Nord
- Himalaya en Asie
- Andes en Amérique du Sud

Mers

- Rouge entre l'Afrique et l'Asie
- Méditerranée entre l'Afrique et l'Europe
- Caraïbes entre l'Amérique du Sud et l'Amérique du Nord



Ex.3. Voilà les noms des pays. Trouvez le continent correspondant.

- a) Canada
- b) Australie
- c) Lettonie
- d) Mexique
- e) Brésil
- f) Monténégro
- g) Chine
- h) Mongolie
- i) Ukraine
- j) Nouvelle Zélande
- k) Japon
- l) les Etats Unis
- m) Autriche
- n) Norvège
- o) Argentine
- p) Danemark
- q) Maroc
- r) Egypte

Corrige: 1 c, f, i, m, n, p, t; 2 g, h, k; 3 q, r, s; 4 a, l, d; 5 e, o, u

Ex. 4. Voilà les pays européens. Trouvez les capitales.

- a) 1. Russie a Athènes
- 2. Grand-Bretagne b Minsk
- 3. Espagne c Kyïv
- 4. Grèce d Helsinki
- 5. Danemark e Moscou
- 6. Finlande f Londres
- 7. Hollande g Berne
- 8. Suisse h Madrid
- 9. Ukraine i Copenhague
- 10. Biélorus j Amsterdam

Corrige: 1e, 2f, 3h, 4a, 5i, 6d, 7j, 8g, 9c, 10b

b) Associez les villes avec leurs pays.

- Cambridge, Montpellier, Nantes, Cracovie, Lviv, Oslo, Rouen, Toulon, Kichinev, Leipzig, Lille, Rennes, Oxford, Zurich, Florence, Lisbonne, Lausanne, Manchester
- France: _____
- Grande-Bretagne: _____
- Ukraine: _____
- Norvège: _____
- Belgique: _____
- Pologne: _____
- Allemagne: _____
- Moldova: _____
- Suisse: _____
- Italie: _____
- Portugal: _____

Martinique, Marquises, Pise, Bulgarie, Sakhaline, Orléans, Strasbourg, Islande, Groenland, Dublin, Venise, Antilles, Hongrie, Malte, Aix, Boléares, Marseille, Poznan, Reykjavik, Terre de Feu, Samoa, Monaco, Portugal, Dieppe, Madagascar

Trouvez capitales européennes

T	I	R	A	N	A	M	S	T	E	R	D	A	M	K	A
F	S	T	O	C	K	H	O	L	M	P	A	R	I	S	A
L	R	I	G	A	Y	E	S	L	O	N	D	R	E	S	T
V	A	D	U	Z	I	L	L	X	S	M	I	N	S	K	H
B	E	R	N	E	V	S	O	Z	C	V	I	E	N	N	E
R	I	M	A	D	R	I	D	S	O	F	I	A	R	U	N
O	B	E	R	L	I	N	B	D	U	B	L	I	N	Q	E
M	K	D	R	E	Y	K	J	A	V	I	K	V	G	L	E
E	A	T	A	L	L	I	N	N	V	I	L	N	I	U	S

Corrigé: Tirana (Albanie); Amsterdam (Pays-Bas); Stockholm (Suède); Paris (France); Riga (Lettonie); Londres (Grande Bretagne); Minsk (Biélorus); Berne (Suisse); Vienne (Autriche); Madrid (Espagne); Sofia (Bulgarie); Berlin (Allemagne); Dublin (Irlande); Reykjavik (Islande); Tallinn (Estonie); Vilnius (Lituanie); Athènes (Grèce); Kyïv (Ukraine); Helsinki (Finlande); Moscou (Russie); Rome (Italie); Oslo (Norvège); Vaduz (Liechtenstein)

c) Placez dans la colonne convenable:

I Île(s)	II Ville	III Pays

Trouvez 19 îles du monde

C	H	Y	P	R	E	K	D	S	I	C	I	L	E	S
O	P	H	I	L	I	P	P	I	N	E	S	J	B	U
R	C	A	N	A	R	I	E	S	M	Y	E	A	A	M
S	V	J	A	M	A	I	Q	U	E	L	L	W	L	A
E	S	A	R	D	A	I	G	N	E	A	B	A	E	T
H	A	W	A	I	I	W	B	O	R	N	E	O	A	R
B	R	I	T	A	N	N	I	Q	U	E	S	F	R	A
T	A	I	W	A	N	R	A	N	T	I	L	L	E	S
J	A	P	O	N	A	I	S	E	S	A	I	X	S	A

Corrigé: Corse, Chypre, Sardaigne, Antilles, Balears, Bornéo, Hawaïi, Taïwan, Britanniques, Canaries, Aix, Sicile, Sumatra, Philippines, Ceylan, Elbe, Jawa, Jamaïque, Japonaises.

II niveau

Ex. 1. a) Associez le pays au continent où il se trouve

- Inde
- Kenya
- Roumanie
- Népal
- Zaire
- Cambodge
- Nicaragua
- Zambie
- Ethiopie
- Suède
- Malaysia
- Seychelles
- Ruanda
- Panama
- Congo
- Japon
- Turquie
- Libye
- Marshall
- Fidji
- Mianma
- Finlande

- 1 Australie et Océanie
- 2 Amérique du Nord
- 3 Amérique du Sud
- 4 Europe
- 5 Asie
- 6 Afrique

b) Trouvez la capitale:

- Tegucigalpa
- Victoria
- Kampala
- Kingston
- La Paz
- Santiago
- Wellington
- Riga
- Reykjavik
- Dakar

et la capitale de (d')

- Seychelles
- Jamaïque
- Chili
- Bolivie
- Lettonie
- Nouvelle Zélande
- Honduras
- Islande
- Sénégal
- Ouganda

Ex. 2. Placez les noms des pays sur la carte. **d)**



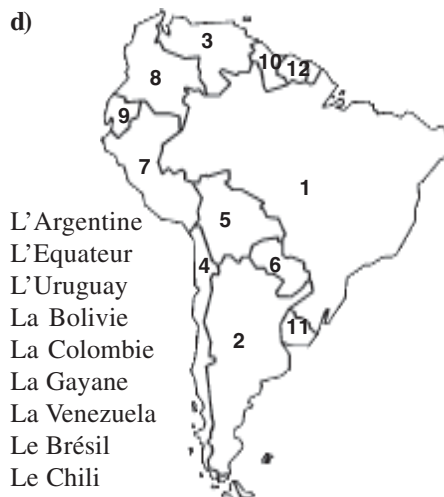
- L'Espagne
- L'Allemagne
- L'Italie
- La Suisse
- La Pologne
- La France
- La Grande Bretagne
- Le Suède
- L'Ukraine



- Le Japon
- La Mongolie
- Le Cambodge
- La Corée de Sud
- L'Afganistan
- La Chine
- Le Laos
- L'Indie
- La Corée de Nord
- Le Pakistan



- Le Maroc
- La Tunisie
- La Mauritanie
- La Libye
- La RSA
- Le Niger
- La Tanzanie
- L'Algérie
- L'Ethiopie
- L'Egypte
- Le Tchad
- Le Soudan
- La Namibie
- L'Angola



- L'Argentine
- L'Equateur
- L'Uruguay
- La Bolivie
- La Colombie
- La Guyane
- La Venezuela
- Le Brésil
- Le Chili
- Le Paraguay
- Le Pérou
- Le Surinam

Ex. 3. Complétez les phrases par les noms géographiques (a) et les notions (b)

- a)**
1. ... c'est une grande île au nord de l'Amérique, en majeure recouverte de glace, 2180000km². Elle appartient au Danemark.
 2. Le détroit entre la France et l'Angleterre, large de 31 km, qui unit La Manche à la Mer du Nord s'appelle ...
 3. ... est un archipel espagnol de l'océan Atlantique, au nord-ouest du Sahara. Villes principales: Las Palmas, Santa Cruz (...)
 4. ... est une chaîne de montagnes de l'Europe centrale, qui s'étend en arc de cercle sur la Tchèque, la Slovaquie, la Pologne, l'Ukraine, la Roumaine (...)
 5. Le détroit de Constantinople, faisant communiquer la mer de Marmara et la mer Noire c'est...
 6. ... est le fleuve qui sépare la Sibérie de la Chine et se jette dans la mer d'Okhotsk: 4 354 km.
 7. ... est le désert de Mongolie.
 8. Fleuve sacré de l'Inde, tributaire du golfe du Bengale: 2700km.
 9. Point culminant de l'Himalaya et du globe: 8880m.
 10. Lac très profond de la Sibéria méridionale, aux confins de la mongolie: 31300 km², c'est

Corrigé: 1 Groenland 2 Pas de Calais 3 Canaries 4 Carpatés 5 Bosphore 6 Amour 7 Gobi 8 Gange 9 Everest 10 Baïkal

b)

- Balaton c'est un ... de Hongrie, à l'ouest de Danube, 398km².
- Le Caire c'est la ... de l'Égypte, près du Nil.
- Botnie est un ... formé par la mer Baltique, et qui baigne la Finlande et la Suède.
- Fuji-Yama est une ... du Japon: 3776m.
- Andalousie est une ... du sud de l'Espagne, arrosée par le Guadalquivir.
- L'Ardenne est un ... couvert de landes et de forêts, au climat rude et au sol pauvre, situé au nord de la France et au sud de la Belgique et du Luxembourg.
- Arabie est une ... de l'Asie occidentale: 3 millions de km². Importants gisements du pétrole.
- Afrique est une des ... du monde.
- Dardanelles est un ... qui unit la mer Égée à la mer de Marmara
- Corse est une ... dans la Méditerranée.
- Le Danube est un ... d'Europe.
- Elbrou est le ... du Caucase occidental.

Corrigé: 1. lac 2. capitale 3. golfe 4. montagne volcanique 5. contrée/région 6. plateau 7. péninsule 8. cinq parties 9. détroit 10. île 11. fleuve 12. sommet

Niveau III

Ex.1. Lisez la description et devinez quel est cet objet géographique. Nommez-le.

- Littoral français de la Méditerranée, de Cassis à Menton.
- Ça se trouve au nord de l'Europe et se compose d'une presqu'île, le Lyland, et des îles de Fionie, Sjælland, Laaland, Falster et Bornholm, 43000km².
- Port sur la mer du Nord: centre sidérurgique. Fut le point de rembarquement des troupes alliées en juin 1940.
- Ça se trouve en Angleterre, sur la Tamise, aujourd'hui réunie à Londres. Elle a donné le nom au club du football.
- Partie du Pacifique, comprise entre la Chine, l'Indochine, Sumatra, Bornéo, les Philippines et Formose.
- Ils se trouvent en Amérique du Nord et s'appellent Supérieur, Michigan, Huron, Érié, Ontario.
- Péninsule située au nord-ouest de l'Amérique, formant depuis 1958 un État des États-Unis.
- Massif volcanique de Turquie, en Arménie; 5165m. Selon la Bible,

l'arche de Née échoua sur cet objet.

- La république Africaine dont la capitale est N'Djaména
- La capitale d'une république au nord-ouest de l'Amérique du Sud, limitée au nord par le delta de la Magdalena sur l'Atlantique, à l'est par l'Amazonie, à l'ouest par la plaine littorale du Pacifique.
- Le cap à l'extrémité sud de la Terre de Feu.
- C'est le fleuve de l'Europe nord-occidentale; 1298 km. Son cours supérieur est constitué, dans le canton suisse des Grisons, par le réunion de deux torrents alpins. Il baigne Strasbourg, Spire, Worms, Mayence (...) et se jette dans la mer du Nord.
- Vaste désert de l'Afrique, s'étendant entre le Maghreb et la zone soudanienne (1600km) et de l'Égypte à l'Atlantique (4300km).
- Fleuve d'Angleterre, qui passe à Oxford, traverse Londres, et se jette dans la mer du Nord: 336 km.
- Ça se trouve en Italie, bâtie sur les lagunes de l'Adriatique... 150 canaux forment les voies principales. République aristocratique et marchande au moyen âge.

Corrige: 1. Côte d'Azur; 2. Danemark; 3. Dunkerque; 4. Chelsea; 5. Mer de Chine; 6. Grands Lacs; 7. Alaska; 8. Ararat; 9. Tchad; 10. Santa-Fe-de-Bogota; 11. Horn; 12. Rhin; 13. Sahara; 14. Tamise; 15. Venise;

Ex.2 Placez les noms des objets géographiques sur les cartes

a)



- Tasmanie (île de)
Victoria (grand désert)
Carpentaria (golfe de)
Grand Récif de corail
Grand Désert Sableux
Océan Indien
Grande Chaîne de Montagne de Partage des eaux
Darling (fleuve)
Golfe Australien
Mer de Corail

b)



- Appalaches
Baie d'Hudson
Canal de Panama
Cordillère (Rocheuses)
Cuba (île de)
Golfe du Mexique
Grands Lacs
Le Saint Laurent
Les Grandes Plaines
Mackenzie
Mississippi
Océan Pacifique
Péninsule de California

Ex.3. Complétez les textes et vous aurez les descriptions de 3 pays (a) du monde, de 5 villes (b) et de 8 objets géographiques (c)

a)

- ...est un vaste état de Elle a 9 780 000... Elle paraît dans ... dès le III millénaire ... notre ère. Elle a connu des ... brillantes sous diverses ... tandis que se développaient dans ... de remarquables, tels que, au IIIe s. Avant ..., le taoïsme et ...
- ..., un des états de balkanique, ... à l'est par la mer ...ou Archipel, .. par le Méditerranée, à l'ouest par..., borné... par la Bulgarie, les pays d'ancienne ... et l'Albanie, le berceau d'une plus grandes ... dans l'histoire de ...
- ..., état du nord-est de ..., 907 000km². Comprend la fertile ... du Nil, qui s'allonge entre ... libyque et le désert... Sa civilisation est ... des civilisations humaines (XXXes...)

Corrigé:

- La Chine: l'Asie: km²: l'histoire: avant: périodes: dynasties: le pays: systèmes philosophiques: notre ère: le confucianisme.
- La Grèce: péninsule: baigné: Égée: au sud: la mer Jonienne: au Nord: Yougoslavie: civilisations: l'humanité.
- Égypte (RAU): l'Afrique: vallée: le désert: arabe: la plus ancienne: avant J.-C.

